


PROVA DE GEOGRAFIA

QUESTÃO 12

O território brasileiro apresenta formas diversificadas de relevo. Identifique a forma de relevo representada na figura abaixo e assinale a opção **CORRETA**.

- a) Chapada
- b) Mar de Morro
- c) Serra
- d) Depressão

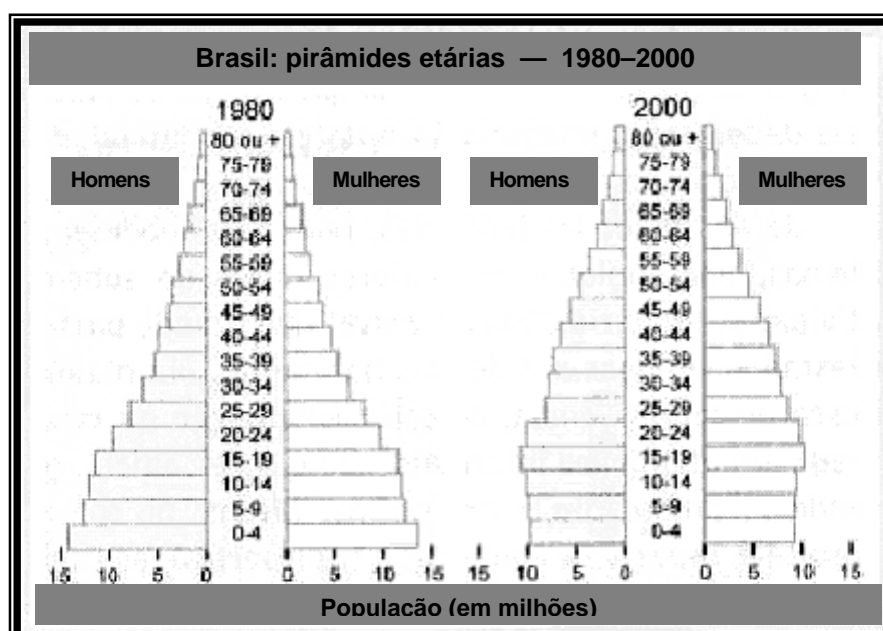


Fonte: MOREIRA & SENE, 2008)

QUESTÃO 13

Observe as figuras abaixo.

Ao analisar as pirâmides etárias (1980 e 2000) e outras informações, particularmente sobre a transição demográfica da população brasileira, é possível estabelecer importantes considerações. Entre as tendências observadas, é **INCORRETO** afirmar a percepção de:



Fonte: IBGE

- a) uma tendência de redução nos índices de natalidade e mortalidade, aumentando a proporção de adultos e idosos em relação aos jovens.
- b) uma lenta queda no crescimento demográfico e na elevação no número de idosos, se comparado ao processo ocorrido na Europa.
- c) uma redução nas taxas de mortalidade, devido à melhoria nas condições médico-sanitárias.
- d) um declínio nas taxas de natalidade, associado ao processo de urbanização e à queda da taxa de mortalidade.

QUESTÃO 14

As charges abaixo ilustram um dos problemas que tem ocupado os noticiários de todo o mundo. A crise mundial de alimentos trouxe para o debate um conjunto de temas polêmicos que, em diversas situações, têm colocado em posições opostas os interesses das nações desenvolvidas ou em desenvolvimento.

Dentre os fatores que têm sido apontados como causas do problema, assinale aquele que afeta mais diretamente os interesses estratégicos do Brasil.

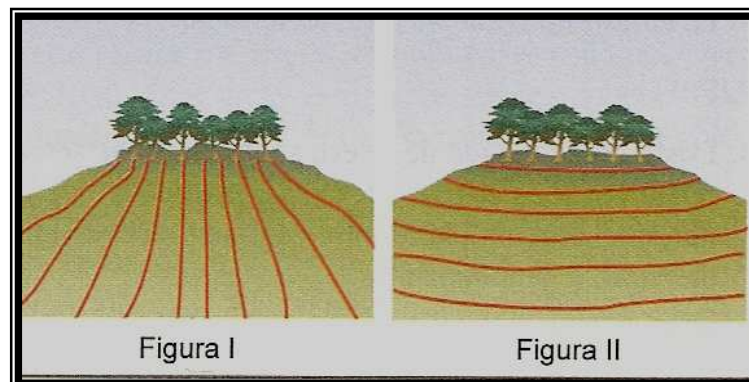


Gazeta do Povo, 21/04/2008.

- A produção do etanol e do biodiesel, que estaria provocando a substituição das lavouras de alimentos pela cultura da cana-de-açúcar e de oleaginosas como a mamona.
- A produção do etanol à base de milho que, além de apresentar alto custo de produção, trouxe como consequência a elevação dos preços mundiais do cereal.
- A especulação internacional no mercado futuro de *comodities* (matérias-primas), que produziu uma escalada mundial de preços dos produtos básicos de alimentação.
- A explosão populacional, que trouxe como consequência uma defasagem extremamente grave entre o crescimento da demanda por alimentos e a elevação da produção.

QUESTÃO 15

As figuras ilustram a adoção de técnicas distintas de aproveitamento de encostas para a produção agrícola. Analisando-as, marque a afirmativa **CORRETA**.



- Na área representada pela figura I, o plantio preserva os padrões de fertilidade do solo, ao respeitar o alinhamento e o distanciamento preciso entre as plantas.
- Na área representada pela figura II, o plantio procurou respeitar as curvas de nível do terreno, reduzindo a ação destrutiva das águas pluviais e amenizando os processos erosivos.
- Na área representada pela figura II, o cultivo paralelo mantém as diferenças de altitude entre os alinhamentos, acentuando o processo erosivo.
- Nas áreas das figuras I e II, os processos erosivos apresentarão a mesma intensidade, pois em ambas houve a preocupação de preservar a vegetação nativa nos pontos mais elevados do terreno.

QUESTÃO 16

A figura ilustra um dos graves problemas na estrutura fundiária da Amazônia Brasileira, responsável pela ocorrência de inúmeros conflitos na região, decorrente do processo de expropriação das populações nativas de suas terras. Diante da gravidade da situação, o governo brasileiro, por meio do INCRA, do Ministério da Defesa e do Ministério da Justiça, pretende realizar um amplo cadastramento das propriedades rurais da região.

A questão abordada refere-se à:

- ocupação de terras por grandes empresas estatais como a Petrobrás, em virtude da necessidade de exploração dos recursos naturais da área.
- expansão dos garimpos ilegais, praticados por migrantes vindos das regiões mais pobres do País.
- desapropriação de terras para realização de reforma agrária, assentando trabalhadores rurais vindos do nordeste brasileiro.
- aquisição ilimitada de terras por estrangeiros, que pode levar a um arriscado processo de internacionalização da Amazônia Brasileira.



Gazeta do Povo, 02/06/2008

QUESTÃO 17

Com o avanço do processo de globalização, a industrialização estendeu-se a vários países e regiões do mundo, levando à superação do modelo clássico da Divisão Internacional do Trabalho, em que cabiam aos países ricos a produção e a exportação de manufaturados e aos países pobres a produção e a exportação de matérias-primas. No modelo atual, há uma tendência clara de deslocamento de alguns tipos de indústrias para países periféricos, atendendo a interesses econômicos e estratégicos das grandes corporações.

São exemplos de indústrias que, no processo de desconcentração industrial, privilegiaram sua localização em alguns países periféricos da Ásia e América Latina, **EXCETO**:

- indústrias de base, como as siderúrgicas, metalúrgicas ou petroquímicas, pelas vantagens locais oferecidas próximo às áreas produtoras das matérias-primas.
- indústrias de bens de consumo não duráveis ou semiduráveis, como as indústrias de alimentos, bebida ou de vestuário, em virtude da elevada disponibilidade de mão-de-obra barata e da proximidade dos mercados consumidores.
- indústrias de alta tecnologia, vinculadas a setores como a informática, telecomunicação por satélites e produtos aeroespaciais, que exigem mão-de-obra altamente qualificada e vinculação estreita com grandes centros de pesquisa e universidades.
- indústrias de bens de consumo duráveis como móveis, eletrodomésticos e automóveis, que, apesar de destinarem-se a um mercado consumidor mais amplo, favoreceram-se de benefícios fiscais e de parcerias locais.

QUESTÃO 18

A maior parte dos cientistas afirma que existe uma elevada presença de dióxido de carbono na atmosfera, em virtude da queima permanente e cada vez mais intensa de combustíveis fósseis, de forma cumulativa, desde a Revolução Industrial. Nesse contexto, é **CORRETO** afirmar:

- a) As emissões de dióxido de carbono ocorrem em uma distribuição bastante uniforme, envolvendo com o mesmo grau de intensidade os diferentes países.
- b) Os países altamente industrializados detêm tecnologias que permitem uma participação extremamente baixa na emissão de gases.
- c) As emissões de gases possuem forte relação com o grau de industrialização dos países, sendo particularmente graves na América do Norte, Ásia e Europa.
- d) A América do Sul e a África apresentam baixas emissões de gases, permitindo afirmar que ainda não iniciaram seus processos de industrialização.